



Exp.: 2022/011294

Procés selectiu: inspector/a de serveis territorials

**Segon exercici: prova pràctica**

Data: 10/05/2023

**SUPÒSIT:** En el document adjunt es mostren 2 plànols representatius, de planta i secció, de la implantació d'una nova activitat al municipi de Roses. Concretament, es tracta d'un restaurant-bar que ha obert recentment i que a la vegada demana ocupar la via pública amb terrassa de vetlladors.

### CAS PRÀCTIC 1

1.1.- L'activitat (restaurant-bar) demana llicència d'ocupació hostalera de la via pública. Quina seria l'ocupació màxima amb taules i cadires que podria disposar en cadascun dels carrers A (vianants), B i C (vianants)? (4p)

Indica la superfície i les longituds i amplades:

Carrer A:

Carrer B:

Carrer C:

1.2.- En aquest apartat suposarem que el titular de l'activitat hagués sol·licitat llicència d'ocupació de via pública només al carrer C.

L'interessat demana una superfície total de 24 m<sup>2</sup> amb una secció rectangular d'1,5 metres de profunditat per 16 metres de llarg.

En el moment de realitzar la inspecció de l'ocupació *in-situ*, comproves que l'ocupació de via pública disposa dels següents elements a la via pública. S'adjunten fotografies dels elements detectats durant la inspecció i es descriuen a continuació:

- A. 8 taules de 60 cm x 60 cm i 24 cadires fetes de plàstic PVC amb publicitat d'una empresa multinacional i color vermell. Les taules no estan adossades a la paret de l'establiment i té una cadira a cada costat de taula.
- B. 3 tendals ratllats de colors gris i blanc de 5 metres de llarg cadascun i situats un al costat de l'altre, sense separació. El faldó és de 15 cm i està obert uns 3 metres. L'alçada respecte a terra és de 2,00 metres.
- C. 11 jardineres de formigó de color blanc sense situades sense separació entre elles i que rodegen tota l'ocupació, deixant un espai de 1,5 metres per entrar a dintre l'ocupació. Les jardineres tenen una alçada de 0,40 metres i una amplada de 0,40. La longitud de cada jardinera és de 1,50 metres i la planta té una alçada de 0,20 metres.
- D. 1 cuina en un dels laterals de l'ocupació que s'està fent ús en el moment de la inspecció i amb el que s'està preparant diversos menjars.



**Ajuntament de Roses**  
Recursos Humans

Exp.: 2022/011294

Procés selectiu: inspector/a de serveis territorials

**Segon exercici: prova pràctica**

Data: 10/05/2023

- E. Disposa d'un faristol (suport amb peu a terra) de la carta del restaurant, situat fora de la zona d'ocupació sol·licitada, a l'espai de pas de vianants, per a una millor visió.
- F. Es disposa d'un expenedor de gelats pel carrer B adossat a la façana.

**Redacta un model d'informe d'inspecció de l'ocupació hostalera, posant especial èmfasi en els incompliments de l'ordenança d'ocupació de la via pública que has detectat: (6p)**



**Ajuntament de Roses**  
Recursos Humans

Exp.: 2022/011294

Procés selectiu: inspector/a de serveis territorials


**Segon exercici: prova pràctica**

Data: 10/05/2023

A. Taules i cadires



B. Tendam



C. Jardineres




D. Cuina d'exterior



E. Faristol de suport per carta  
Exenedor de gelats



F.





Exp.: 2022/011294

Procés selectiu: inspector/a de serveis territorials

**Segon exercici: prova pràctica**

Data: 10/05/2023

## **CAS PRÀCTIC 2**

La nova activitat disposarà d'una superfície interior de 129 m<sup>2</sup>, dels quals, 94 m<sup>2</sup> són destinats a zona de taules i cadires per al públic, 16 m<sup>2</sup> a zona de barra, 10 m<sup>2</sup> a la cuina i 9 m<sup>2</sup> a la zona de serveis higiènics.

Respon les següents preguntes:

**2.1.- Fruit de l'anàlisi de la documentació tècnica aportada, corroborat amb la corresponent inspecció del local, indiqui breument quins elements de protecció contra incendis troba a faltar a l'establiment, de conformitat amb la normativa d'incendis: (3p)**

- 1.- \_\_\_\_\_
- 2.- \_\_\_\_\_
- 3.- \_\_\_\_\_
- 4.- \_\_\_\_\_
- 5.- \_\_\_\_\_
- 6.- \_\_\_\_\_

**2.2.- Indica breument les principals deficiències de l'establiment en matèria de condicions d'accessibilitat per a persones amb discapacitat que hagi detectat en el local: (3p)**

- 1.- \_\_\_\_\_
- 2.- \_\_\_\_\_
- 3.- \_\_\_\_\_
- 4.- \_\_\_\_\_
- 5.- \_\_\_\_\_

**2.3.- Respon amb veritat (V) o fals (F) les següents afirmacions: (4p)**

1. El nombre de serveis higiènics està correctament dimensionat d'acord amb l'aforament que té el local.
2. El vestíbul d'accés als lavabos compleix amb la normativa d'accessibilitat.
3. El restaurant ha de tenir contractada una assegurança de Responsabilitat Civil amb una quantia de 400.000 euros de capital assegurant, amb un sub-límit per víctima de 150.000 euros.
4. Si l'activitat vol oferir música a menys de 75dB(A) cal que tingui un sistema de doble porta.
5. Aquesta activitat de restaurant se sotmet al règim de llicència d'obertura amb projecte i certificat.



**Ajuntament de Roses**  
Recursos Humans

Exp.: 2022/011294

Procés selectiu: inspector/a de serveis territorials

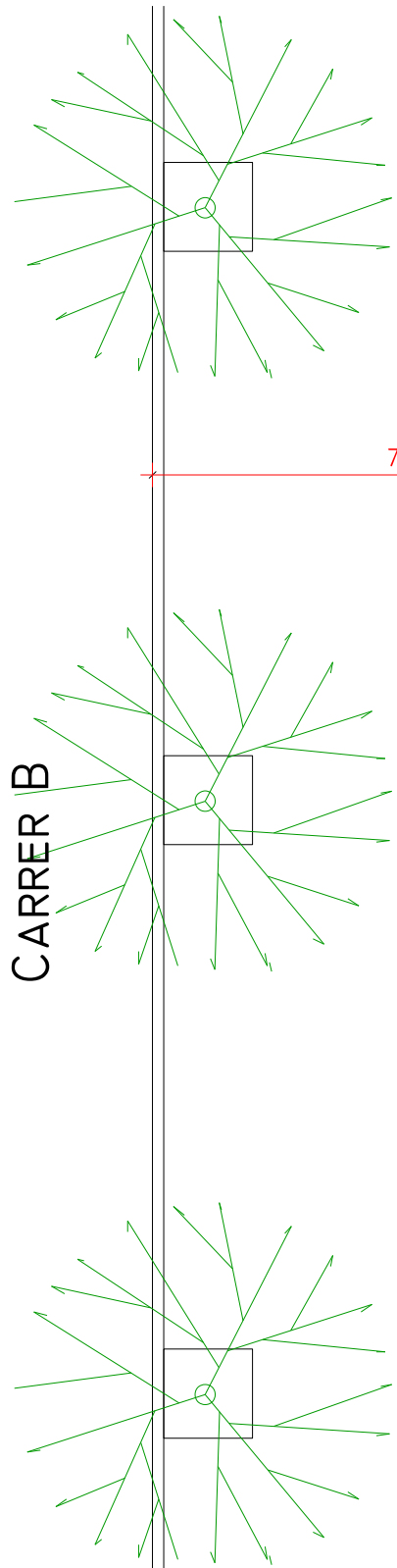
**Segon exercici: prova pràctica**

Data: 10/05/2023

6. L'activitat requereix disposar de detectors de fums a tota la part pública de l'establiment per complir la normativa d'incendis.
  
7. L'activitat no compleix la normativa municipal de gestió de residus perquè no té un magatzem per emmagatzemar els residus.
  
8. D'acord amb la normativa de tinença d'animals aquesta activitat podrà permetre l'accés d'animals al recinte sense un permís especial.

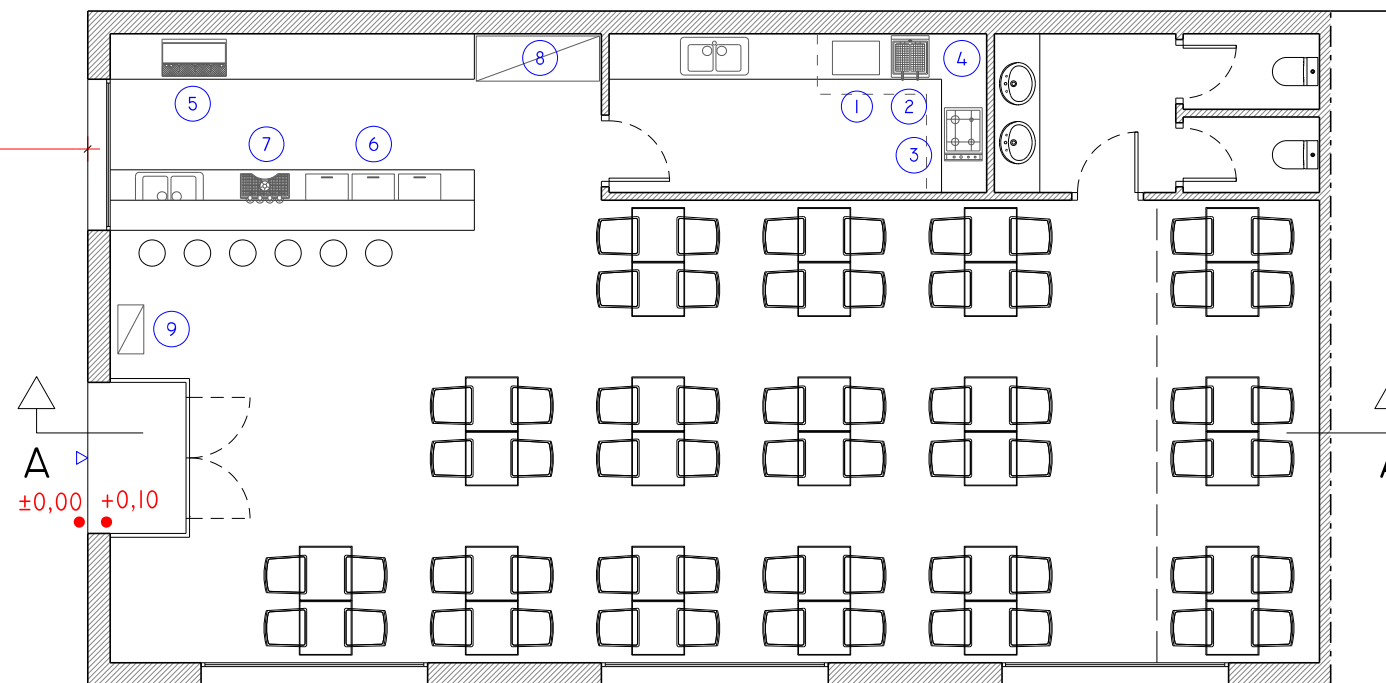
EXERCICI PRÀCTIC

CARRER B



7.00

A  
±0,00 +0,10



EDIFICI

CARRER A

2.50

EDIFICI

A'

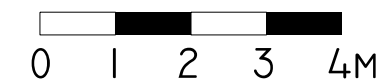
CARRER C

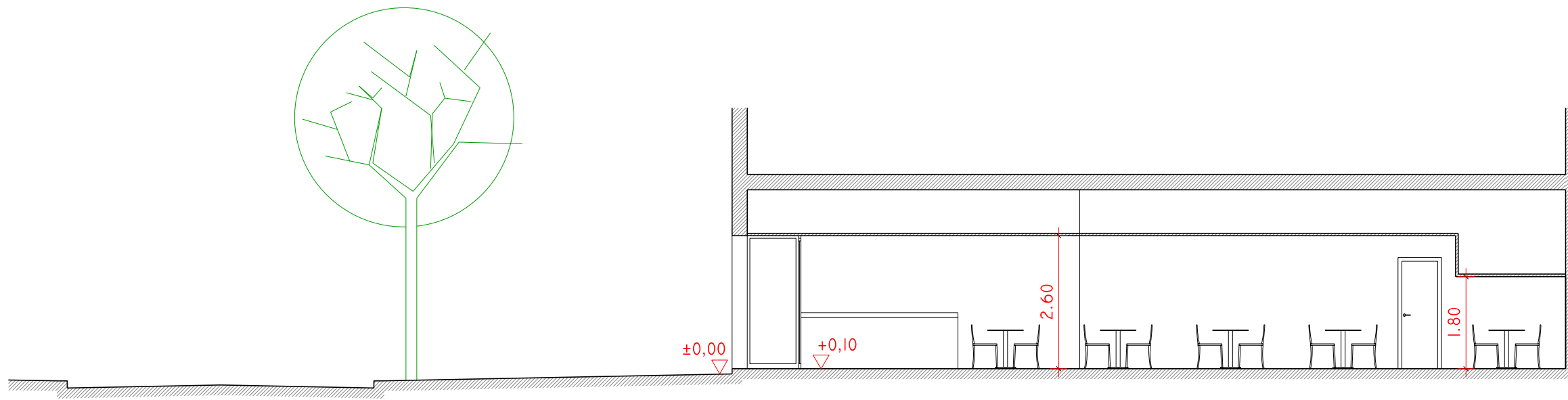
6.00

EDIFICI

- 1 PLANXA
- 2 FREGIDORA
- 3 CUINA
- 4 CAMPANA EXTRACTORA
- 5 CAFETERA
- 6 NEVERA
- 7 TIRADOR CERVESA
- 8 ARMARI FRIGORÍFIC
- 9 QUADRE ELÈCTRIC

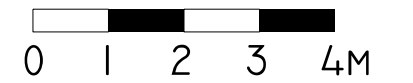
PLANTA E: 1/100





EXERCICI PRÀCTIC

SECCIÓ A-A' E: 1/100





Exp.: 2022/011294

Procés selectiu: inspector/a de serveis territorials

**Segon exercici: prova pràctica**

Data: 10/05/2023

El segon exercici és obligatori i eliminatori i passen a realitzar-lo els aspirants que han superat l'exercici anterior.

Consisteix a desenvolupar per escrit, durant el període màxim que determini el tribunal, que no pot ser superior a tres hores, dos casos pràctics sobre temes relacionats en la part específica del temari annex de les bases (Annex I) proposats pel tribunal.

Durant aquesta prova els aspirants poden en tot moment fer ús dels textos legals sense comentar en format paper que considerin oportuns.

En aquest exercici es valora la sistemàtica en el plantejament i formulació de conclusions i del coneixement i l'aplicació adequada de la normativa vigent.

El tribunal podrà optar perquè els aspirants llegeixin o argumentin cadascun dels exercicis en presència de l'òrgan de selecció i podrà formular preguntes d'aclariment sobre la solució plantejada en els seus exercicis en el temps que es determini.

Té una puntuació màxima de 20 punts.

Cada cas pràctic es puntua fins a un màxim de 10 punts.

Els aspirants que no assoleixin un mínim de 5 punts en cada cas pràctic seran eliminats.



**SUPÒSIT:** En el document adjunt es mostren 2 plànols representatius, de planta i secció, de la implantació d'una nova activitat al municipi de Roses. Concretament, es tracta d'un restaurant-bar que ha obert recentment i que a la vegada demana ocupar la via pública amb terrassa de vetlladors.

## **CAS PRÀCTIC 1**

**1.1.- L'activitat (restaurant-bar) demana llicència d'ocupació hostalera de la via pública. Quina seria l'ocupació màxima amb taules i cadires que podria disposar en cadascun dels carrers A (vianants), B i C (vianants) ? (5p)**

**Indiqui la superfície i les longituds i amplades:**

Carrer A: *no es pot concedir OVP*

Carrer B: *3,50 metres per 8,90 metres (ample de façana) = 31,15 metres quadrats*

Carrer C: *2 metres x 16,4 metres = 32,8 metres quadrats*

**GUIA DE CORRECCIÓ PER AL TRIBUNAL:** *L'opositor valorarà la profunditat màxima de cada ocupació possible en funció de l'amplada disponible de cada carrer i la seva naturalesa i presència o no de vorera, donat que l'ordenança parteix d'aquest concepte per determinar-ho. Es valorarà en la mateixa proporció les 3 respostes.*

**1.2.- En aquest apartat, anem a suposar que el titular de l'activitat hagués sol·licitat llicència d'ocupació de via pública només al carrer C.**

**L'interessat demana una superfície total de 24 m<sup>2</sup> amb una secció rectangular de 1,5 metres de profunditat per 16 metres de llarg.**

**En el moment de realitzar la inspecció de la ocupació *in-situ*, comproves que l'ocupació de via pública disposa dels següents elements a la via pública. S'adjunten fotografies dels elements detectats durant la inspecció i es descriuen a continuació:**

- A. 8 taules de 60cm x 60cm i 24 cadires fetes de plàstic PVC amb publicitat d'una empresa multinacional i color vermell. Les taules no estan adossades a la paret de l'establiment i té una cadira a cada costat de taula.
- B. 3 tendals ratllats de colors gris i blanc de 5 metres de llarg cadascun i situats un al costat de l'altre, sense separació. El faldó és de 15cm i està obert uns 3 metres. L'alçada respecte al terra és de 2,00 metres.

- C. 11 jardineres de formigó de color blanc sense situades sense separació entre elles i que rodegen tota l'ocupació, deixant un espai de 1,5 metres per entrar a dintre l'ocupació. Les jardineres tenen una alçada de 0,40m i una amplada de 0,40. La longitud de cada jardinera és de 1,50m i la planta té una alçada de 0,20 metres.
- D. 1 cuina en un dels laterals de l'ocupació que s'està fent ús en el moment de la inspecció i amb el que s'està preparant diversos menjars.
- E. Disposa d'un faristol (suport amb peu a terra) de la carta del restaurant, situat fora de la zona d'ocupació sol·licitada, a l'espai de pas de vianants, per a una millor visió.
- F. Es disposa d'un expenedor de gelats pel carrer B adossat a la façana.


**Redacta l' informe d'inspecció de la ocupació, posant especial èmfasi en els incompliments de l'ordenança d'ocupació de la via pública que has detectat: (5p)**

**GUIA DE CORRECCIÓ PER AL TRIBUNAL:** *En aquest apartat es valorarà el coneixement de l'opositor respecte de l'ordenança, ja que per exemple, la cuina exterior i les taules i cadires de plàstic amb motius comercials de grans dimensions no estan permesos per la normativa municipal, o bé la presència d'expenedor de gelats tampoc ho permet la normativa, entre altres. Es valorarà en una major proporció la demostració de coneixement de la normativa (70%) i en un 15 % la comprensibilitat del text i la capacitat de síntesi dels aspirants, i en un 15 % la claredat i estructuració de la proposta d'informe demanada, plantejant com a mínim, antecedents, fonaments de dret i conclusions.*

A. Taules i cadires



B. Tendam



C. Jardineres



D. Cuina d'exterior



E. Suport per carta



F. Expendedor de gelats



## **CAS PRÀCTIC 2**

La nova activitat disposarà d'una superfície interior de 129 m<sup>2</sup>, dels quals, 94 m<sup>2</sup> són destinats a zona de taules i cadires per al públic, 16 m<sup>2</sup> a zona de barra, 10 m<sup>2</sup> a la cuina i 9 m<sup>2</sup> a la zona de serveis higiènics.

Respongui a les següents preguntes:

**2.1.- Fruit de l'anàlisi de la documentació tècnica aportada, corroborat amb la corresponent inspecció del local, indiqui breument quins elements de protecció contra incendis troba a faltar a l'establiment, de conformitat amb la normativa d'incendis. (3p)**

- 1.- \_\_\_\_\_
- 2.- \_\_\_\_\_
- 3.- \_\_\_\_\_
- 4.- \_\_\_\_\_
- 5.- \_\_\_\_\_
- 6.- \_\_\_\_\_

**GUIA DE CORRECCIÓ PER AL TRIBUNAL:** *En aquest apartat es valorarà el coneixement de l'aspirant respecte de la normativa de referència, podent aportar aspectes com la presència d'extintors, indicació de la senyalització d'emergència, sistema d'extinció automàtica de la cuina, etc... podent a la vegada aclarir per exemple l'alçada reglamentària dels extintors,... Es valorarà en una major proporció la demostració de coneixement de la normativa (90%) i en un 10 % la comprensibilitat del text i la capacitat de síntesi dels aspirants.*

**2.2.- Indiqui breument les principals deficiències de l'establiment en matèria de condicions d'accessibilitat per a persones amb discapacitat que hagueu detectat en el local (3p):**

- 1.- \_\_\_\_\_
- 2.- \_\_\_\_\_
- 3.- \_\_\_\_\_
- 4.- \_\_\_\_\_
- 5.- \_\_\_\_\_

**GUIA DE CORRECCIÓ PER AL TRIBUNAL:** *En aquest apartat es valorarà el coneixement de l'aspirant respecte de la normativa sectorial de referència, podent aportar aspectes com rampa d'accés 10% per salvar desnivell, enllumenat d'emergència, alçada insuficient en zones de l'activitat ,... Es valorarà en una major proporció la demostració de coneixement de la normativa (90%) i en un 10 % la comprensibilitat del text i la capacitat de síntesi dels aspirants.*

**2.3.- Respongui amb veritat (V) o fals (F) les següents afirmacions: (4p)**

1. El nombre de serveis higiènics està correctament dimensionat d'acord amb l'aforament que té el local. **(F)**
2. El vestíbul d'accés als lavabos compleix amb la normativa d'accessibilitat. **(V)**
3. El restaurant ha de tenir contractada una assegurança de Responsabilitat Civil amb una quantia de 400.000 euros de capital assegurant, amb un sub-límit per víctima de 150.000 euros. **(F)**
4. Si l'activitat vol oferir música a menys de 75dB(A) cal que tingui un sistema de doble porta. **(F)**
5. Aquesta activitat de restaurant es sotmet al règim de llicència d'obertura amb projecte i certificat. **(F)**
6. L'activitat requereix disposar de detectors de fums a tota la part pública de l'establiment per complir la normativa d'incendis. **(F)**
7. L'activitat no compleix la normativa municipal de gestió de residus perquè no té un magatzem per emmagatzemar els residus. **(V)**
8. D'acord amb la normativa de tinença d'animals aquesta activitat podrà permetre l'accés d'animals al recinte sense un permís especial. **(F)**